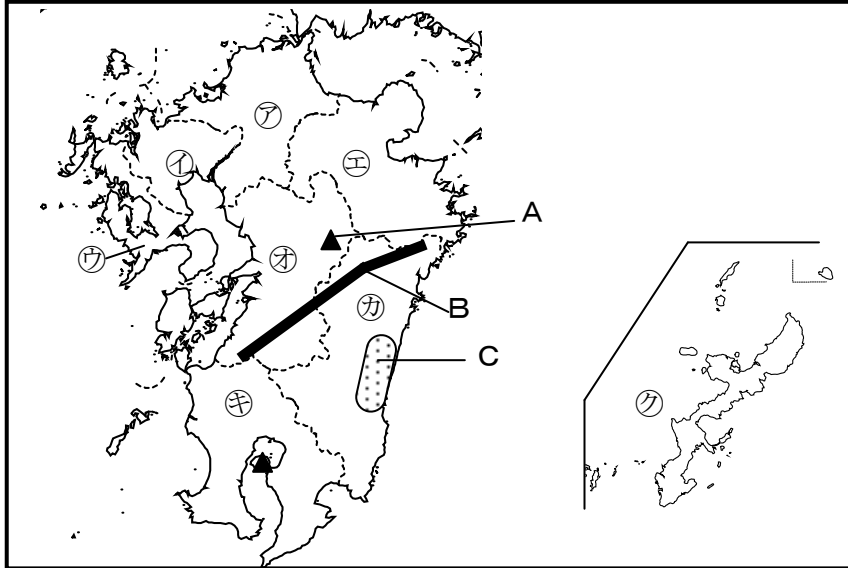


No. 1 九州地方	年 組
	名前

/7 問

次の地図を見て、下の () に当てはまる言葉をそれぞれ書きましょう。

地図



- ①の県には、機械工業、金属工業、食品工業などが中心の (①) 工業地域があります。
- 九州地方は火山が多く、平成28年10月にも噴火したAの火山は (②) です。
- ⑤の県には温泉がたくさんあります。⑤の県は (③) 県です。
- Bの山地は (④) 山地です。
- Cの平野では、ビニールハウスを利用したピーマンやきゅうりの栽培がさかんです。Cの平野は (⑤) 平野です。
- 図の⑦～⑧の県の中で、県名と県庁所在地名が異なる県が一つあります。その県は (⑥) 県で、県庁所在地は (⑦) 市です。



九州地方は火山がたくさんあり、火山の近くには温泉が数多くあるよ。



【解答】

- 北九州
- 阿蘇山
- 大分
- 九州
- 宮崎
- 沖縄
- 那覇

No.3 中国・四国地方	年 組
	名前

/7問

次の地図を見て、下の () に当てはまる言葉をそれぞれ書きましょう。

地図



- 1 ④の県は (①) 県で、県庁所在地は (②) 市です。

ぼくの名前に関係のあるくだもの生産量が、日本で2番目に多い県だよ。



- 2 Aの山地は (③) 山地で、山地の北側の地域を山陰、南側の地域を山陽といいます。Bの山地は (④) 山地で、西日本で一番高い石鎚山があります。

- 3 ⑤の県の県庁所在地には、世界遺産の原爆ドームがあります。県庁所在地は (⑤) 市です。



- 4 Cの平野は (⑥) 平野です。年間の降水量が少ないため、ため池が多いです。

- 5 Dの川は (⑦) 川です。四国で一番長い川で支流の一つが「平成の名水百選」に選ばれています。

瀬戸内海は太平洋側の地域と比べて、年間の降水量がやや少ないんだね。



【解答】

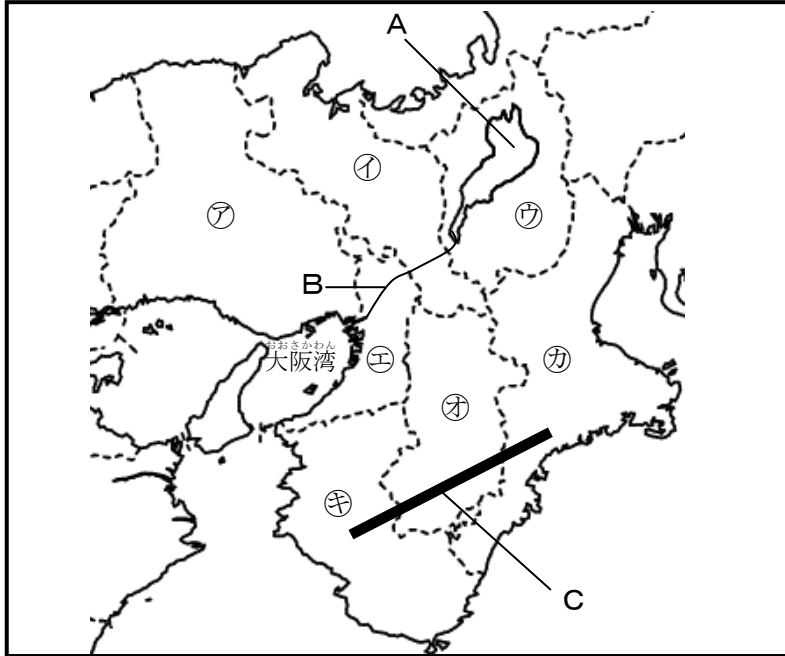
- ① 愛媛
- ② 松山
- ③ 中国
- ④ 四国
- ⑤ 広島
- ⑥ 讃岐
- ⑦ 四万十

No. 5 近畿地方	年 組
	名前

/7 問

次の地図を見て、下の () に当てはまる言葉をそれぞれ書きましょう。

地図



- ④の県は、みかんやうめの生産量が日本一です。
④の県は (①) 県です。
- Aの湖は、面積が日本で一番広いです。Aの湖は (②) です。
- Aの湖から大阪湾に流れ出るBの川は (③) 川です。
- 金閣や清水寺などのお寺がたくさんあり、多くの観光客が訪れる①の府の府庁所在地は (④) 市です。
- Cの山地は (⑤) 山地です。
- ⑦から④の府県の中には、府が二つあり、①は (⑥) 府、④は (⑦) 府です。



近畿地方には、多くの国宝や文化財が残っているね。



【解答】

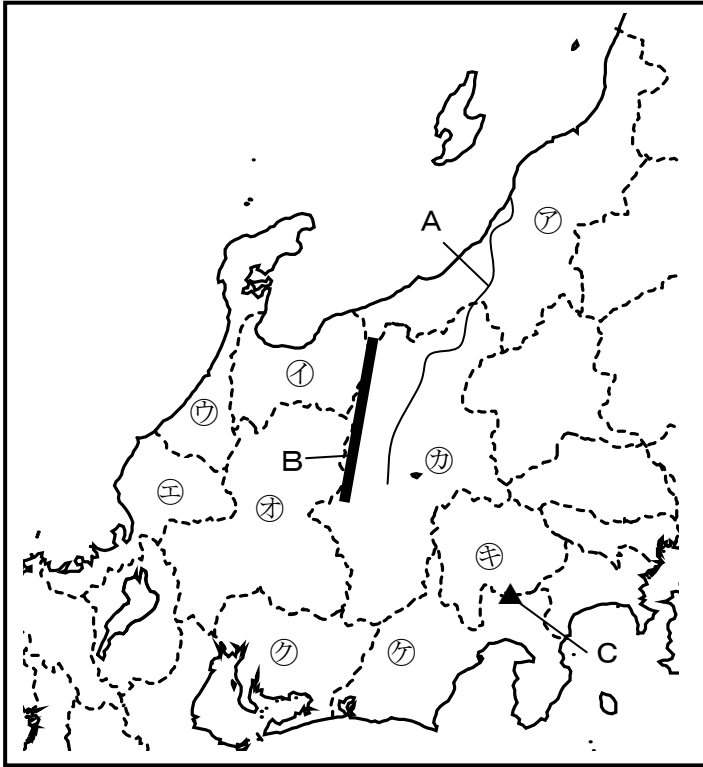
- ① わかやま 和歌山
- ② びわこ 琵琶湖
- ③ よど 淀
- ④ きょうと 京都
- ⑤ きい 紀伊
- ⑥ きょうと 京都
- ⑦ おおさか 大阪

No. 7 中部地方	年 組
	名前

/7 問

次の地図を見て、下の () に当てはまる言葉をそれぞれ書きましょう。

地図



- Aの川は、日本で一番長い川で、米づくりがさかんな⑦の県を
通って日本海に流れ出ていきます。Aの川は(①)
川で、⑦の県は(②) 県です。
- 中部地方には、標高3000m級の山がたくさんあります。
Bの山脈は(③) 山脈です。
- Cの山は、標高 3776mの日本一高い山です。
Cの山は(④) です。
- ⑦の県を中心に工業のさかんな中京工業地帯が広がっています。自動車・オートバイの生産台数が日本一の⑦の県は(⑤) 県で、
県庁所在地は(⑥) 市です。
- 茶の生産量が日本一の⑦の県は(⑦) 県です。



中部地方の自然や工業の特ちょうをとらえることができたかな。



【解答】

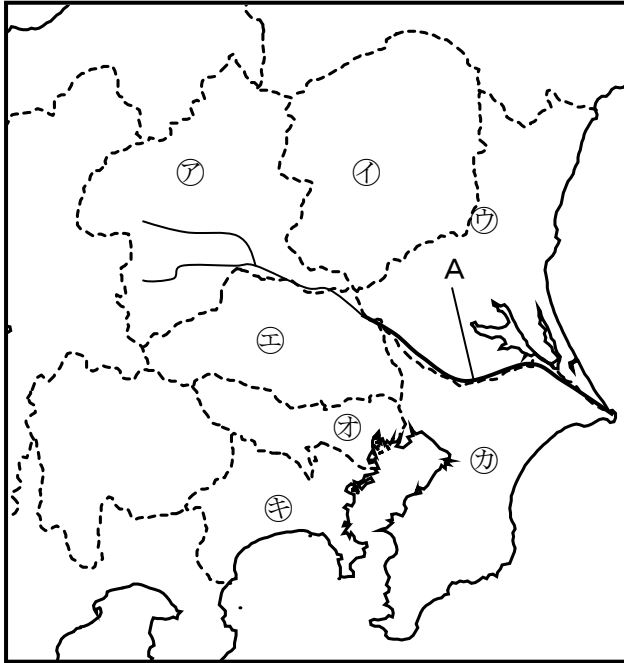
- ① 信濃
- ② 新潟
- ③ 飛騨
- ④ 富士山
- ⑤ 愛知
- ⑥ 名古屋
- ⑦ 静岡

No. 9 関東地方	年 組
	名前

/7 問

次の地図を見て、下の () に当てはまる言葉をそれぞれ書きましょう。

地図



- 1 地図中の㉗～㉛に広がっている、日本で最も面積が広い平野は (①) 平野です。
- 2 ㉙や㉛の沿岸部には、多くの工場が集まり、機械などの生産がさかんに行われている地域が広がっています。この工業地帯は (②) 工業地帯です。
- 3 日本の首都で、2020 年にオリンピックが開かれる都市は (③) です。
- 4 日本で2番目に長いAの川は (④) 川です。
- 5 箱根温泉のある㉚の県は (⑤) 県で、県庁所在地は (⑥) 市です。
- 6 成田国際空港がある㉛の県は (⑦) 県です。

- 【解答】
- ① 関東
 - ② 京浜
 - ③ 東京
 - ④ 利根
 - ⑤ 神奈川
 - ⑥ 横浜
 - ⑦ 千葉

関東地方は、日本の政治・経済の中心になっていて、人口も集中しているね。



No.11 北海道地方・東北地方

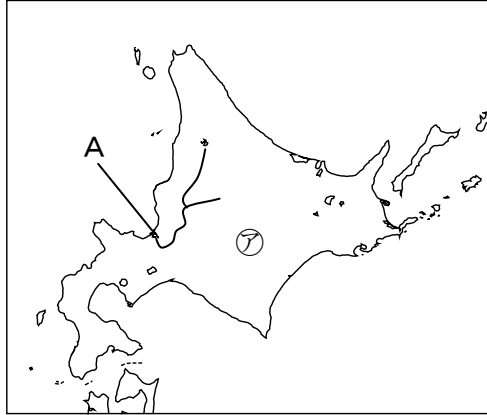
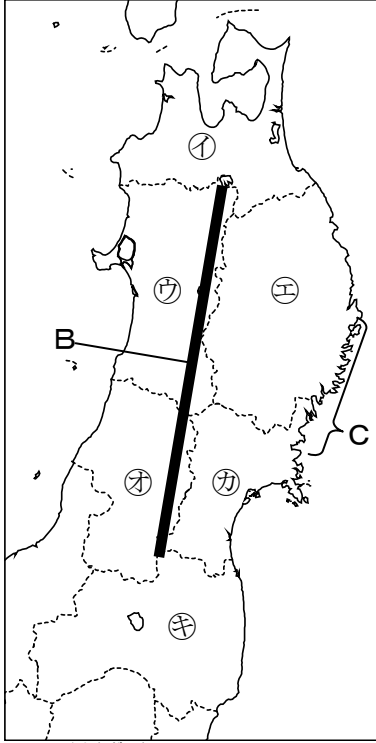
年 組

名前

17問

次の地図を見て、下の () に当てはまる言葉をそれぞれ書きましょう。

地図



1 肉用牛や牛乳の生産が日本一の㊀の道は (①) です。



① ほっかいどう

2 日本で3番目に長いAの川は (②) 川です。

② いしかり

3 Bの山脈は (③) 山脈です。


③ おうう

4 りんごの生産が日本一の㊁の県は (④) 県です。



④ あおもり

5 さくらんぼの生産が日本一の㊂の県は (⑤) 県です。



⑤ やまがた

6 Cの三陸海岸のように、出入りの多い海岸地形を (⑥) 海岸といいます。

⑥ リアス

7 面積が日本で2番目に広い㊃の県は (⑦) 県です。

⑦ いわて

北海道や東北地方には、米や果物の生産がさかんな地域があるんだね。



【解答】